



MUSÉE DE L'ANCIEN ÉVÊCHÉ
GRENOBLE



LIVRET **PÉDAGOGIQUE** du professeur

Autour de l'exposition

À L'ASSAUT DES CHÂTEAUX FORTS !

Les archéologues racontent

isère
LE DÉPARTEMENT

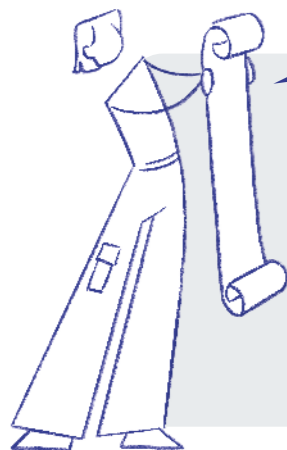
ENTRÉE GRATUITE DANS LES 11 MUSÉES DU DÉPARTEMENT DE L'ISÈRE



Avant de commencer à profiter de l'exposition, réfléchis à ce qui te vient en tête si on te dit le mot « Moyen Âge ».

1 - Lis maintenant le texte d'introduction puis coche VRAI ou FAUX aux affirmations suivantes. Si tu as répondu FAUX, note la réponse juste en dessous.

- Pour la plupart des gens, le Moyen Âge est associé à la cathédrale, au chevalier et au château-fort monumental. ● VRAI ○ FAUX
- Le Moyen Âge est une période très courte. ○ VRAI ● FAUX
FAUX, le Moyen Âge s'étend sur près de mille ans (v^e-xv^e siècles).
- Les travaux menés par les archéologues depuis les années 1970 montrent qu'il existe une grande variété de sites fortifiés. ● VRAI ○ FAUX

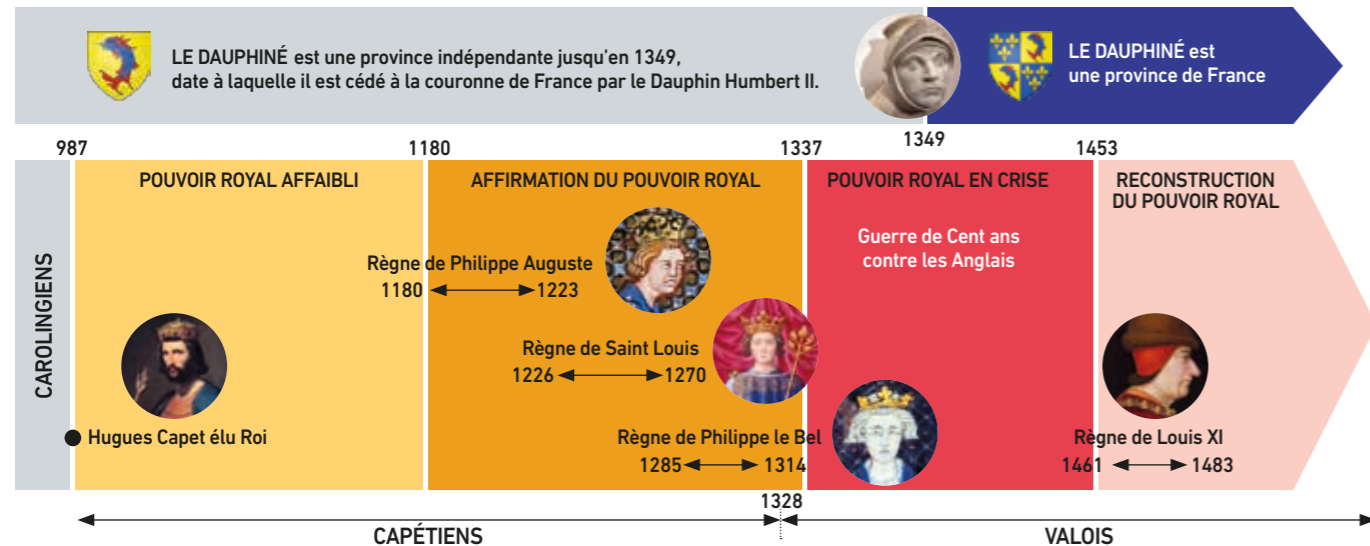


En savoir plus sur le métier d'archéologue

2 - Au fait, qu'est-ce que l'archéologie ?
L'archéologie est une discipline qui permet de mieux connaître notre histoire grâce à l'étude des traces du passé.

Dans cette exposition, tu vas partir à la découverte des sites fortifiés fouillés ou étudiés en Isère depuis les années 1970. Certaines informations te permettront également d'en savoir plus sur le métier d'archéologue et ses méthodes.

REPÈRES HISTORIQUES



Bonne exploration !

V^e-IX^e SIÈCLES

DES SITES FORTIFIÉS DE HAUTEUR

3 - Lis le texte et les questions suivantes. Coche la bonne réponse.

- Combien de sites fortifiés de hauteur ont été identifiés avec certitude en Isère ?
○ 104 ● 12
- Qui possède ces sites fortifiés ?
○ Des paysans ○ Des prêtres (clergé) ● Des élites aristocratiques
- Où ces sites sont-ils implantés ?
● En hauteur, sur des reliefs difficiles d'accès ○ En plaine, près des cours d'eau
- Comment étaient choisis ces lieux d'implantation ?
○ Ces lieux étaient bien ensoleillés. ● Ces lieux étaient stratégiques.




ZOOM SUR LE SITE DE LARINA (VI^e - VIII^e SIÈCLES)

Prends connaissance du site archéologique de Larina.
Ce site réunit les critères que nous avons énoncés ci-dessus : un site naturellement défendu par des falaises abruptes et une enceinte, qui appartenait probablement à de riches aristocrates francs, et qui occupait un emplacement stratégique permettant de contrôler la vallée du Rhône.



4 - Relie les objets trouvés à Larina avec leurs noms.



LA MOTTE: L'ANCÊTRE DU CHÂTEAU

5 - Lis le texte et complète le texte à trous avec les termes suivants :

- palissade • terre • pierre • puissance • basse-cour • bois • tour • fossé

Autour de l'an 1000, un nouveau type de fortification apparaît: la motte. Faite de **terre** et de **bois**, cette fortification se compose d'un monticule de terre créé artificiellement ou taillé dans le terrain naturel, surmonté d'une **tour** de bois.

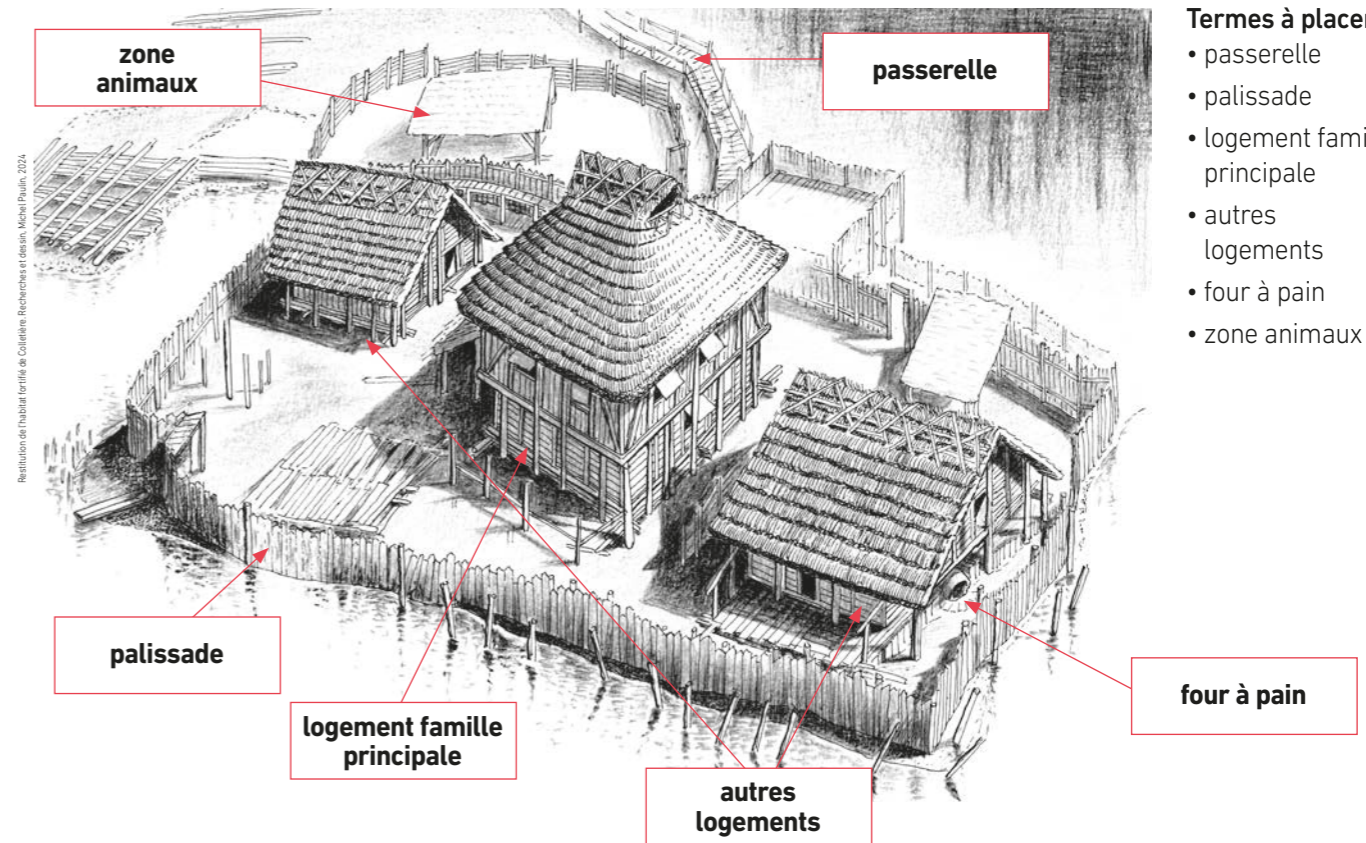
Au pied de la butte, une plate-forme est aménagée, appelée **basse-cour**.

L'ensemble est protégé par un fossé et une **palissade** de bois

C'est l'ancêtre du château en **pierre** et déjà un marqueur de **puissance** pour ceux qui la font construire et qui l'occupent.



6 - Sur le dessin ci-dessous, complète les cases montrant ces différents espaces.



- Termes à placer :
- passerelle
 - palissade
 - logement famille principale
 - autres logements
 - four à pain
 - zone animaux

7 - Réponds aux questions.

- Qu'ont permis les défrichements ?

La construction de nouveaux habitats et la mise en culture de nouvelles terres.

- Qui a demandé à la famille de colons d'aller défricher ces terres ?

Un puissant personnage.

- Quelles activités ces familles pratiquaient-elles d'après les bâtiments conservés ?

L'élevage (zone pour les animaux), la fabrication de pain (four à pain) et donc la culture du blé. Ce sont des cultivateurs autant que des éleveurs.

ZOOM SUR LE SITE DE COLLETIÈRE, À CHARAVINES (XI^e SIÈCLE)


Peu après l'an Mil, les rives du lac de Paladru sont défrichées (déboisées) et trois bâtiments de bois défendus par une palissade sont installés sur un site légèrement en hauteur et auxquels on accède grâce à une passerelle. À l'intérieur de la palissade, les trois bâtiments montrent qu'il existe une hiérarchie entre les familles: le bâtiment central est celui de la famille principale et dominante, certainement des cavaliers armés. Il s'agit de colons envoyés par un puissant personnage pour défricher et cultiver. Les deux autres bâtiments sont occupés par des familles aux ordres de la première.

À noter: le bâtiment de droite possède un four à pain. Du côté de l'entrée, à l'extérieur, une zone réservée aux animaux a aussi été repérée.



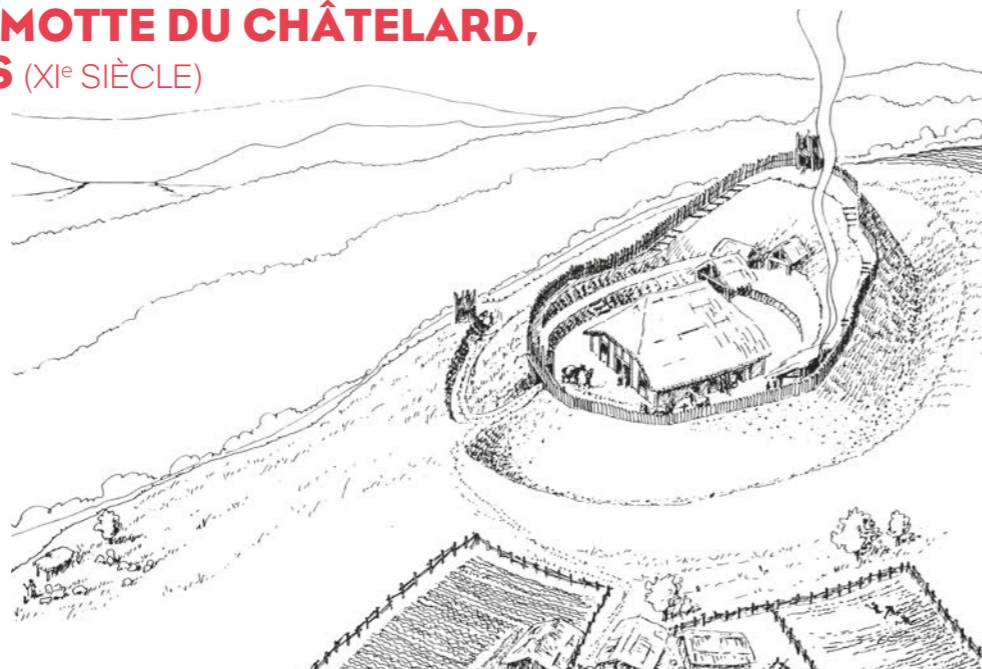
En savoir plus sur le métier d'archéologue

Le site de Colletière se trouve à Charavines, au bord du lac de Paladru. Il a été entièrement fouillé par les archéologues qui ont ainsi pu étudier trois habitats fortifiés construits peu après l'an Mil. Ces habitats ont été abandonnés à cause de la montée des eaux. Le site est donc resté sous les eaux pendant des siècles! À Charavines, les archéologues ont donc fait de l'archéologie subaquatique pour l'étudier.



ZOOM SUR LA MOTTE DU CHÂTELARD, À CHIRENS (XI^e SIÈCLE)

Sur ce site fortifié, plusieurs objets ont été retrouvés. Ils appartiennent pour la plupart à des cavaliers armés et leur famille.



8 - Replace les noms d'objets dans les colonnes correspondantes.

- bouclette d'éperon • poinçon • clé en fer
- fragment de fer à cheval • poignée de coffret
- carreau d'arbalète • épingle en bronze
- élément de harnais • perle côtelée
- élément de nuquier • Houe

Élément de mobilier	Outil	Parure	Matériel d'équitation	Armement
Clé en fer	Poinçon	Perle côtelée	Bouclette d'éperon	Carreau d'arbalète
Poignée de coffret	Houe	Épingle en bronze	Fragment de fer à cheval	Élément de nuquier
			Élément de harnais	

JEU « CHERCHE ET TROUVE »

9 - Parmi ces sites, sauras-tu retrouver les mottes ? Entoure-les !



Photos © Service du patrimoine culturel / Département du Jura

XII^e-XIV^e SIÈCLES

DES CHÂTEAUX FORTS ?

À partir du XII^e siècle, les mottes sont parfois abandonnées, parfois réutilisées pour élever un château. Ce château est la propriété d'un seigneur châtelain, c'est le centre politique et administratif d'un territoire. C'est un lieu de résidence, de défense et de protection. C'est aussi le lieu où l'on perçoit les redevances (taxes) et où est rendue la justice. À cette période, les seigneurs font construire des fortifications imposantes. Le seigneur perçoit de nombreuses taxes des paysans. Ceux-ci le paient pour cultiver sa terre (le cens), utiliser son four, son moulin ou son pressoir. Ils doivent également au seigneur une part de ce qui est produit (« banalité »). En échange de sa protection, les paysans payent encore une autre taxe au seigneur : la « taille ».



En savoir plus sur le métier d'archéologue

L'archéologue étudie les données issues de fouilles mais s'appuie également sur des documents qui lui permettent d'obtenir des informations complémentaires sur le territoire, la période ou les objets découverts. Dans le panneau « Sites cachés », on peut voir que l'archéologue utilise par exemple des relevés en courbes de niveaux, des gravures, des photographies anciennes ou encore des cadastres anciens.

JEU « MOTS MÊLÉS »

10 - Dans le tableau suivant, retrouve les éléments d'architecture des châteaux de cette période. Il y a 10 mots à retrouver.

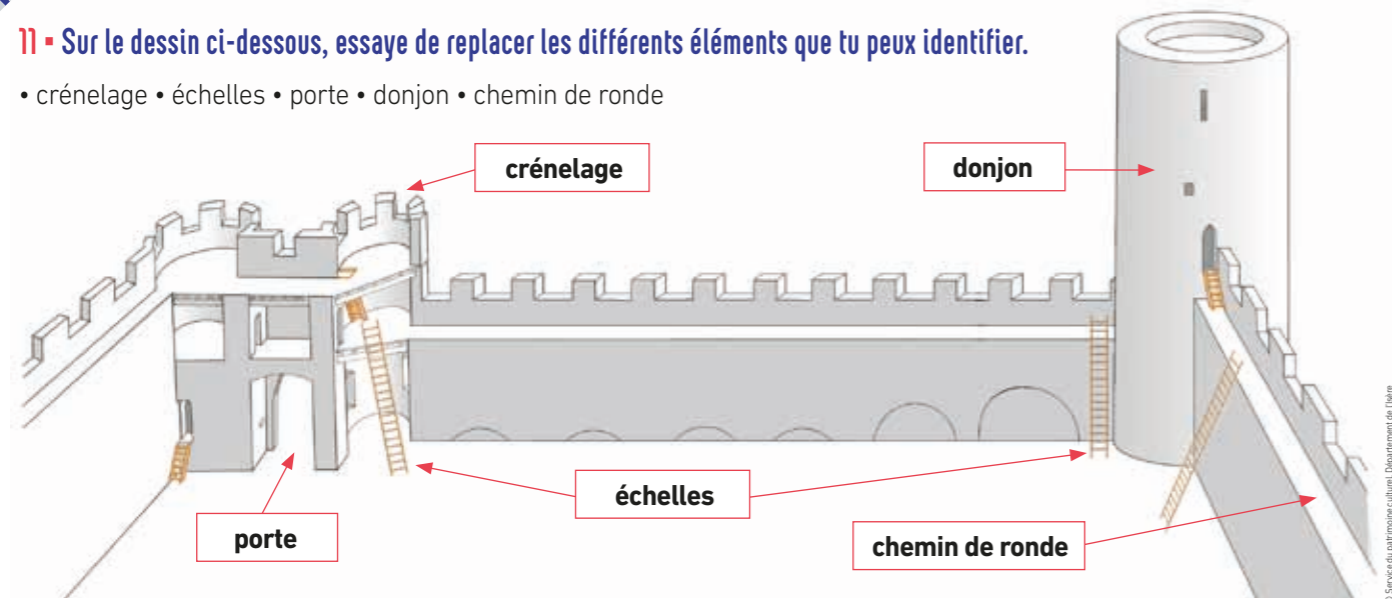
S	A	B	R	I	Q	U	E	J	V	C	U	W	V
I	B	M	C	E	P	E	S	D	X	R	S	E	I
R	J	X	X	E	I	B	C	S	E	É	A	P	P
T	Y	D	T	N	E	B	P	H	N	N	A	P	Q
T	U	O	O	I	R	Q	Y	O	C	E	W	O	K
Z	U	N	U	B	R	J	F	F	E	L	Y	T	O
O	D	J	R	F	E	T	T	O	I	A	B	E	U
L	L	O	M	O	P	U	S	M	N	G	F	R	V
S	N	N	S	S	O	N	Y	H	T	E	L	N	C
E	E	J	H	S	R	X	O	W	E	P	Y	E	X
L	T	C	U	É	T	H	D	O	S	T	N	Q	O
B	O	K	J	C	E	Q	W	F	Y	R	Y	H	M
C	H	E	M	I	N	D	E	R	O	N	D	E	V
X	V	Z	B	E	A	F	H	U	C	U	N	K	I

- pierre
- brique
- tour
- enceinte
- porte
- poterne
- crénelage
- chemin de ronde
- fossé
- donjon

ZOOM SUR LE CHÂTEAU DE BRESSIEUX (FIN XIII^e SIÈCLE)

11 - Sur le dessin ci-dessous, essaie de replacer les différents éléments que tu peux identifier.

- crénelage • échelles • porte • donjon • chemin de ronde



En savoir plus sur le métier d'archéologue



Le site de Bressieux a été fouillé pendant 9 ans. Les objets étudiés nous montrent que l'archéologie s'intéresse à tous les types de « mobiliers », c'est-à-dire à tous les objets découverts, qu'ils soient luxueux ou très simples. Chaque trouvaille est un indice qui permet d'en savoir plus sur la vie des sociétés d'autrefois.



ZOOM SUR LA VITRINE « REGISTRE D'HOMMAGES »

Observe le parchemin nommé registre d'hommages. L'hommage est une sorte de serment. Un homme (le vassal) se met au service d'un seigneur (suzerain). En échange, le suzerain assure sa protection. Le système d'hommage organise les relations sociales de l'époque, on appelle cela le système féodal.



Miniature du XIII^e siècle.
Archives départementales des Pyrénées-Orientales.

ZOOM SUR LE CHÂTEAU DES DAUPHINS DE BEAUVOIR-EN-ROYANS (XIV^e SIÈCLE)

12 - Lis le texte et réponds aux questions.

- À quoi servait la résidence de Beauvoir ?
Beauvoir était l'une des résidences de campagne favorites des trois derniers dauphins.
- Quels bâtiments ou éléments d'architecture trouvait-on sur le site ?
Tour et grand mur d'enceinte couronné de merlons, chapelle et pont de pierre, long bâtiment de trois niveaux adossé au rempart, bourg attenant.



© Breuil-Roux, Service du patrimoine culturel, Département du Isère

LE SAVAIS-TU ?

Les dauphins sont les seigneurs les plus puissants du Dauphiné.



Rends-toi au 4^e étage, dans la 2^e salle de l'exposition.

FIN XIII^e - DÉBUT XIV^e SIÈCLE LES BÂTIES ET LA GUERRE

13 - Lis le texte puis réponds aux questions.

- Que se passe-t-il entre 1282 et 1355 dans notre région ?
Les deux états voisins du Dauphiné et de la Savoie connaissent des conflits répétés.
- Pourquoi ces deux « camps » sont-ils en guerre ?
Ils sont en guerre car leurs territoires sont voisins et « enchevêtrés ».
- Que font les dauphins et les comtes de Savoie pour mieux se protéger ?
Ils construisent de nouvelles fortifications : tantôt des châteaux accompagnés de la création de bourgs, tantôt des fortifications secondaires appelées bâties.
- À quoi ressemble une bâtie ?
Les bâties consistent en un tertre quadrangulaire de taille modeste entouré d'un fossé profond où se dressent des bâtiments parfois en bois, parfois en pierre.
- Finalement, qu'est devenu le Dauphiné ?
Le Dauphiné a été rattaché au royaume de France en 1349.



Enluminure, manuscrit Chronique de France.
© Bibliothèque municipale, Ville de Grenoble

- Quel traité met fin à ces guerres ?
Le traité de Paris en 1355 met fin à ces guerres.

14 - Prend connaissance de l'ensemble des textes de la salle.
Puis, relie le nom de chaque site avec la bonne photo et donne sa description.



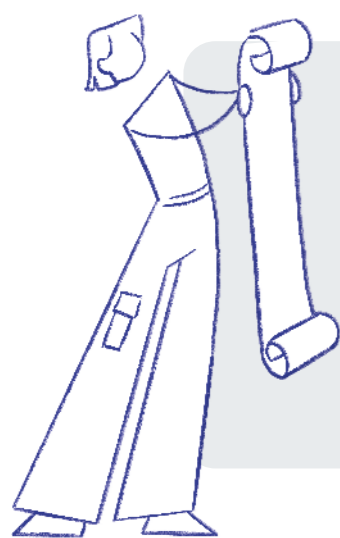
La Perrière à Saint-Julien-de-Ratz
Bâtie (fortification de frontière)

Crémieu
Bourg avec enceinte avec portes et tours

Tour d'Arces
Maison forte

15 - Les maisons fortes : coche VRAI ou FAUX.

- Les bâtiments empruntent les éléments architecturaux du château: tour et enceinte. ● **VRAI** ○ FAUX
- Le propriétaire d'une maison forte est un seigneur. ○ VRAI ● **FAUX**
- La maison forte est une résidence entourée de terres agricoles. ● **VRAI** ○ FAUX



En savoir plus sur le métier d'archéologue

16 - À partir du texte de la mezzanine, liste les différentes étapes qui permettent aux archéologues d'étudier les sites fortifiés de l'Isère.

- Réalisation d'inventaires
- Établissement d'historiques précis
- Étude de chaque site
- Comparaison des sites entre eux



ZOOM SUR LE CHÂTEAU DE THEYS (FIN XIII^e SIÈCLE)



17 - Grâce au texte « Vivre au château » et aux mots-clés inscrits sur le mur, écris les différents éléments qui permettent d'apporter du confort dans un château.

fenêtres à coussiège / latrines / niche à lampe / cheminée / lavabo / citerne / poêles et fourneaux
placard mural / puits / garde-robe

18 - Grâce à la vidéo découvre le château de Theys et ses décors: quel personnage est la « star » de ce décor?

Perceval

19 - Ce personnage apparaît dans un roman célèbre de la littérature médiévale. Qui est l'auteur de ce roman?

Chrétien de Troyes



ZOOM SUR LA MAISON FORTE DE ROYBON (MILIEU XIV^e SIÈCLE)

La maison forte des Loives, à Roybon, comporte un donjon quadrangulaire et un vaste bâtiment en longueur, construits vers 1340. Le donjon, qui fait vingt mètres de haut, s'élève sur cinq niveaux, tous décorés.

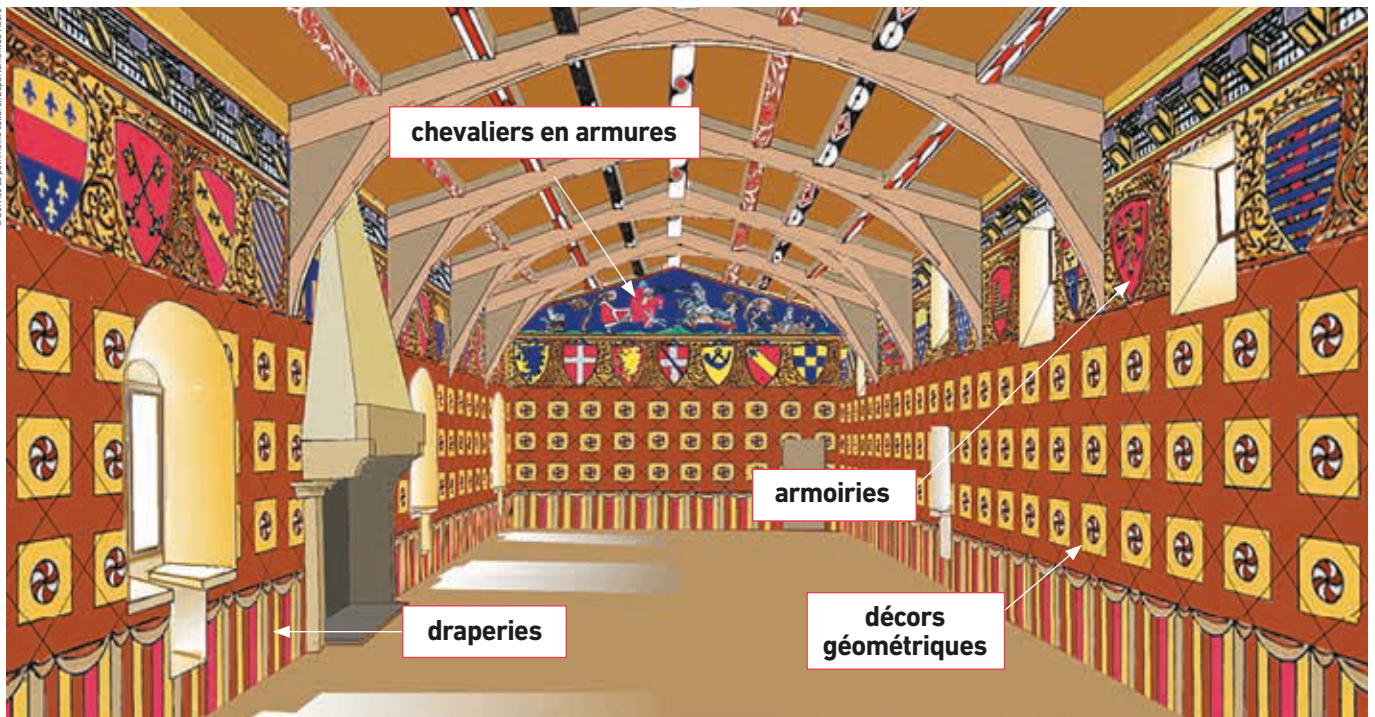


© Service du patrimoine culturel, Département de l'Isère

20 - Au dernier étage du bâtiment en longueur, une vaste salle, « l'aula », est entièrement décorée de peintures.

Grâce aux panneaux d'information et à la reconstitution ci-dessous, replace les mots :

- armoiries • décors géométriques • draperies
- chevaliers en armures



© Service du patrimoine culturel, Département de l'Isère



© Service du patrimoine culturel, Département de l'Isère

**21 - À qui appartient le blason ci-contre : « croix d'argent sur fond de gueules » ?
Aux comtes de Savoie**